

Programme maths semaine du 23 mars au 28 mars

Mardi 24 mars


Rituels (sur ardoise ou cahier de brouillon)

Compter de 2 en 2 de 0 à 20 (2-4-6-8-10-12-14-16-18-20)

Compter de 5 en 5 de 0 à 60 (5 -10 -15 -20 -25 -30 -35 -40 -45 -50 -55-60)

Compter de 10 en 10 de 10 à 60 (10- 20 -30- 40- 50- 60)

Calcule : (sur ardoise ou cahier de brouillon) : tu peux utiliser ton tableau des nombres pour t'aider ou tu peux dessiner les nombres, en dessinant un rectangle pour les dizaines et des petits ronds pour les unités.

Exemple : $23 + 12 =$  je vois 3 dizaines, donc cela fait 30 et 5 unités donc $30 + 5 = 35$

▢ $25 + 14 =$ $32 + 16 =$ $12 + 15 =$

Attention, ce sont des soustractions ! :

▢ $10 - 2 =$ $7 - 3 =$ $6 - 1 =$

▢ $15 - 5 =$ $7 - 3 =$ $5 - 4 =$

Résoudre le problème :

Dans la classe, il y a 14 chaises blanches, 11 chaises rouges et 3 chaises vertes. Combien y a-t-il de chaises en tout dans la classe ?

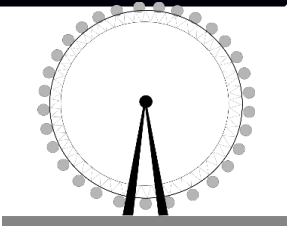


N'oublie que tu peux dessiner et/ou écrire un calcul.

Exercice Le PARC (ci-dessous) : regarder le document avec votre enfant et lui expliquer au besoin la manière de le lire (tableau) Lui lire les questions si besoin. Le corrigé est à la fin de la page.

Réponds aux questions suivantes :

- 1) Ecris le prix d'une entrée au Grand 8 pour un adulte
- 2) Ecris le nom de l'attraction qui coûte 7 euros.
- 3) Ecris le prix total pour une famille : le père, la mère, et un enfant qui prennent un ticket à la Grande roue.

LE PARC

	ENFANT	ADULTE
	6 €	7 €
	4 €	5 €
	2 €	3 €

Mercredi 25 mars :

Rituels : sur ardoise ou cahier de brouillon

Compter de 2 en 2 à partir de 20 à 60 (20-22-24-26-28-30 ...60)

Compter de 5 en 5 à partir de 15 jusqu' à 60 (15- 20 -25 – 30 ...)

Compter de 10 en 10 de 0 jusqu' à 100

Calcule : sur l'ardoise ou au cahier de brouillon. Tu peux utiliser ton tableau des nombres ou dessiner si besoin.

$$4 + 5 = \quad 10 + 8 = \quad 7 + 2 = \quad 6 + 4 =$$

$$18 - 3 = \quad 13 - 2 = \quad 14 - 1 = \quad 19 - 2 =$$

$$2 + 2 = \quad 7 + 7 = \quad 9 + 9 = \quad 10 + 10 =$$

$$10 + 20 = \quad 20 + 20 = \quad 30 + 10 = \quad 20 + 40 =$$

$$3 + 6 + 4 + 2 = \quad 1 + 5 + 4 + 9 = \quad 3 + 4 + 7 + 2 =$$

$$5 + \dots = 10 \quad 4 + \dots = 10 \quad 1 + \dots = 10 \quad \dots + 3 = 10$$

Compare ces nombres : utilise < ou >

$$12 \dots\dots 21 \quad 54 \dots\dots 50 \quad 41 \dots\dots 30$$

$$14 \dots\dots 7 \quad 8 \dots\dots 81 \quad 13 \dots\dots 31$$

CORRIGE

Exercice Le PARC

Réponds aux questions suivantes :

1) Ecris le prix d'une entrée au Grand 8 pour un adulte

L'entrée coûte 5 euros pour un adulte.

2) Ecris le nom de l'attraction qui coûte 7 euros.

C'est la grande roue qui coûte 7 euros.

3) Ecris le prix total pour une famille : le père, la mère, et un enfant qui prennent un ticket à la Grande roue.

$$7+6+6= 19$$

Les entrées coûtent 19 euros .